

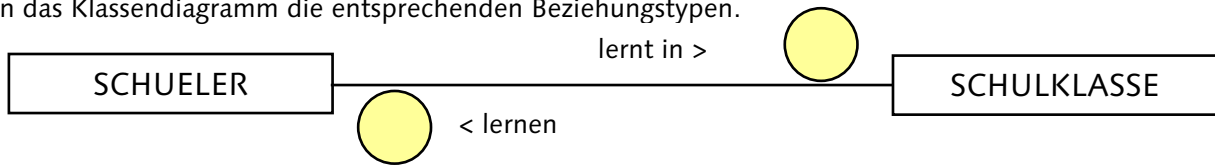


# I Datenmodellierung und DBS

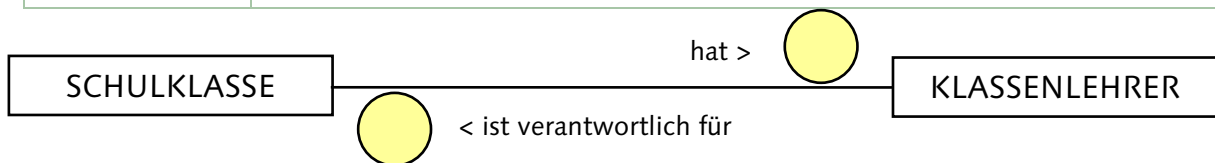
## Beziehungen zwischen Klassen

### Aufgabe:

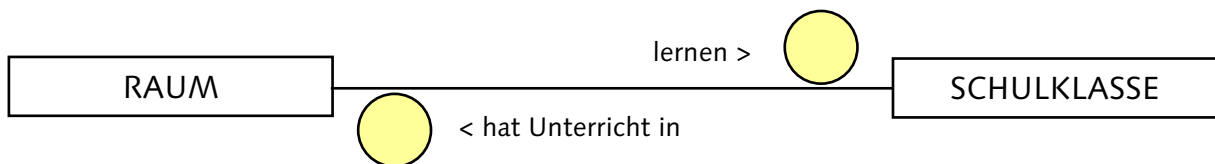
Beschreiben Sie in der Tabelle die Beziehung in der jeweiligen Leserichtung durch einen Satz. Schreiben Sie an das Klassendiagramm die entsprechenden Beziehungstypen.



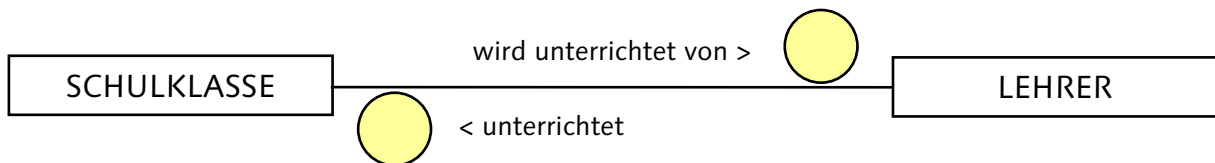
Leserichtung	



Leserichtung	



Leserichtung	



Leserichtung	